

試験開始の合図があるまで、問題冊子を開かないでください。

令和元年度 第4回しらかわ検定

3級 問題冊子

(問題数50問 試験時間50分)

注意事項

- 1 試験中は受験票、筆記用具、時計（通信機能のないもの）以外は全てかばん等にしまってください。
- 2 携帯電話はマナーモードにするか、電源をお切りください。
- 3 問題冊子は、19ページあります。印刷が不鮮明であったり、ページが不足していたりする場合や、解答用紙の汚れ等に気づいた場合は、手を挙げて係員にお知らせください。ただし、問題に関する質問にはお答えできません。
- 4 解答は、解答用紙の1から4の数字のうち、正答と思われる番号一つに丸を付けてください。

例えば【第1問】に対して「1」と解答する場合は、次の（例）のように解答用紙に丸を付けてください。

（例）

| | | | | |
|-----|---|---|---|---|
| 第1問 | ① | 2 | 3 | 4 |
|-----|---|---|---|---|

- 5 解答用紙に正しく丸が付けられていない場合や二つ以上に丸が付いている場合は、不正解とします。
- 6 不正行為を行った場合は、その時点で受験を取りやめ退室していただきます。
- 7 不明な点がある場合や、体調不良やトイレでやむを得ず席を立つ場合は、手を挙げて係員にお知らせください。

【第1問】

せいき 7世紀中ごろに、成立した陸奥国最大規模の「白河郡」は、いくつの
むつのくにさいだいきぼ しらかわぐん
郷から構成されていましたか。

- ① 5 ② 9 ③ 17 ④ 23

【第2問】

しらかわゆうきけ 白河結城家の始まりとされる人物は誰ですか。

- ① 結城祐広 ② 結城直朝 ③ 結城義綱 ④ 結城氏朝

【第3問】

しらかわゆうきけ 白河結城家の人物について、正しいものはどれですか。

- ① 結城朝光は足利尊氏を破り「公家（天皇家）の宝」と賞賛された
- ② 結城祐広は源頼朝の奥州攻めに従軍し白河荘を与えられた
- ③ 白川城跡の北東部にある題字の感忠銘の文字は結城宗広が書いたものである
- ④ 結城親朝は北朝（足利尊氏）側に転じた

【第4問】

しよだいしらかわはんしゆ だれ
初代白河藩主となったのは誰ですか。

- ① ほんだただよし 本多忠義 ② まつだいらもとちか 松平基知 ③ あべまさあつ 阿部正篤 ④ にわながしげ 丹羽長重

【第5問】

えど しらかわはん はんしゆ まちが
江戸時代の白河藩及び藩主について、間違っているものはどれですか。

- ① しらかわはん かんえい
白河藩は寛永4年（1627）に成立した
- ② にわみつしげ にほんまつ いほう
丹羽光重が二本松に移封した
- ③ まつだいら ひさまつ け しよだいはんしゆ まつだいらさだのぶ
松平（久松）家の初代藩主は松平定信である
- ④ あべけ つと
阿部家は8代にわたり、藩主を務めた

【第6問】

まつだいらさだのぶ
松平定信について、正しいものはどれですか。

- ① えどばくふ ろうじゅうしゆざ ぼつ
江戸幕府の老中首座に抜てきされた
- ② こみねじょう だいかいしゅう じょうかまち せいび
小峰城を大改修し、城下町の整備をした
- ③ とくがわいえなり ほさ きょうほう かいかく
徳川家斉を補佐して「享保の改革」を行った
- ④ とくがわよしむね
徳川吉宗の子である

【第7問】

ぼしんせんそう せいぐん ちょうしゅうはん へいたい おもてごう
戊辰戦争で西軍の長州藩の兵隊が表郷に残していったもの
はどれですか。

- ① ^{きんいん}金印 ② ^{きばこ}木箱 ③ ^{ぼくとう}木刀 ④ ^{たいこ}太鼓

【第8問】

しらかわはんしゅ あべけ まちが
白河藩主阿部家について、間違っているものはどれですか。

- ① ^{しらかわはんしゅ あべまさきよ(しず)}最後の白河藩主は阿部正静である
② ^{あべまさと(う) ぼくふ ろうじゅう}阿部正外は幕府の老中であつた
③ ^{たなぐら いほう}棚倉に移封した
④ ^{ふだいだいみょう}譜代大名ではなかつた

【第9問】

ぶんせい さんぼうりょうちがえ はん しらかわはん
文政6年(1823)に「三方領地替」となつた3つの藩は白河藩
と桑名藩と、あと一つはどれですか。

- ① ^{せんだいはん}仙台藩 ② ^{おしはん}忍藩 ③ ^{ちょうしゅうはん}長州藩 ④ ^{さつまはん}薩摩藩

【第10問】

めいじ ちょうそんせいしこう しらかわまち
明治22年(1889)の町村制施行により成立した「白河町」の
当時の人口は何人ですか。

- ①約3千人 ②約1万1千人 ③約5万3千人 ④約10万人

【第11問】

うまいち
白河の馬市について、正しいものはどれですか。

- めいじ かいさい
①明治時代に初めて開催された
- しょうわ まく
②昭和39年(1964)をもって幕を閉じた
- ひんばん
③馬以外にも豚や牛が頻繁に取り引きされた
- でんせんびょう げんしょう
④伝染病が広がり、産馬が減少していった

【第12問】

たいしょう しょうわ
大正・昭和時代の白河について、正しいものはどれですか。

- しらかわけん あいづけん ふくしまけん とうごう
①「白河県」が会津県に、さらに福島県へと統合された
- しょうわ あいづ
②昭和32年(1957)に白河-会津間の鉄道が開通した
- きんろうどういん こおりやまくうしゅう ひがい
③勤労動員の白河の女学生は郡山空襲の被害を受けなかった
- しょうわ きんゆうきょうこう かいさん
④昭和初めの金融恐慌で地元資金の4つの銀行のうち3つが解散
した

【第13問】

たいしょう 大正5年(1916)に開通した「白棚鉄道」は現在、何の専用
道路として整備され使用されていますか。

- ①トラック ②自転車 ③バス ④歩行者

【第14問】

しょうわ 昭和初期以降の町村合併について、まちが間違っているものはどれです
か。

- ① しょうわ 昭和24年(1949)に しらかわまち 白河町と おおぬまむら 大沼村の2町村が合併して「白
河市」となった
- ② しょうわ 昭和30年(1955)に こせきむら 古関村と かねやまむら 金山村の2村が合併して
「おもてごうむら 表郷村」となった
- ③ しょうわ 昭和30年(1955)に しのぶむら 信夫村と おおやむら 大屋村の2村が合併して
「たいしんむら 大信村」となった
- ④ へいせい 平成17年(2005)に しょうわ 白河市・ おもてごうむら 表郷村・ たいしんむら 大信村・ ひがしむら 東村が
合併して げんざい 現在の「白河市」となった

【第15問】

こみねじょう まちが
小峰城について、間違っているものはどれですか。

- ① めいじ かいきにつしよく さい かんそくち
明治20年(1887)に皆既日食があった際に観測地となった
- ② こみねじょう さんじゅうやぐら かわら
小峰城の三重櫓は、約1万3千枚以上の瓦が使用されていた
- ③ えど あぶくまがわ
江戸時代に城の西側を流れていた阿武隈川を北側に変えた
- ④ へいあん ちくじょう
平安時代に築城された

【第16問】

こみねじょう さんじゅうやぐら ふくげん いなりやま てっぽう なまりだま
小峰城の三重櫓の復元に使われた稲荷山の杉に鉄砲の鉛玉
が残っていましたが、これは何の戦いで使われたものですか。

- ① ぼしんせんそう ② ごさんねん えき ③ えいしょう へん ④ ぜんくねん えき
① 戊辰戦争 ② 後三年の役 ③ 永正の変 ④ 前九年の役

【第17問】

こみねじょう いしがき
小峰城の石垣について、正しいものはどれですか。

- ① えど あいづはんしじょう
最も古い石垣は、江戸時代初めの会津藩支城時代のものである
- ② ③ ④
現在残っている石垣は、約500メートルである
- ③ しゅうふく
これまでに石垣の修復は行っていない
- ④ しらかわいし
白河石は、加工しにくいため石垣には使われていない

【第18問】

こみねじょう
小峰城にある門の説明として、正しいものはどれですか。

- ① さくらのもん にのまる ほんまる
桜之門は二之丸と本丸をつなぐ重要な門であった
- ② たいこもん ごてん はんしゅ
太鼓門は御殿の庭の部分に通じ、藩主などの出入りに利用された門であった
- ③ あいづもん こけらぶき
会津門は入口が南に向いて建てられ、屋根は柿葺であった
- ④ しみずもん なかのもん
清水門は以前「中之門」という名前であった





【第19問】

しらかわはんしゅ だれ
次のうち、白河藩主ではない人物は誰ですか。

- ① ほんただだひら ② まつだいらさだなが ③ あべまさかた ④ まつだいらきよてる
①本多忠平 ②松平定永 ③阿部正備 ④松平清照

【第20問】

しらかわはんしゅ かもん あべけ
歴代白河藩主の家紋のうち、阿部家の家紋はどれですか。

| | | | |
|---|---|---|---|
| ① |  | ② |  |
| ③ |  | ④ |  |

【第21問】

白河の^{じょうかまち}城下町について、正しいものはどれですか。

- ① ^{おうしゅうかいどう}奥州街道の東と西の^{げんかんぐち}玄関口に^{あしがるまち}足軽町が置かれた
- ② ^{てんじんまち}天神町・^{なかまち}中町・^{もとまち}本町・^{よこまち}横町・^{たまち}田町は「^{とお}通り^{ごちょう}五町」と呼ばれ、^よ商業の^{しゅうせきち}集積地として^{はんえい}繁栄していた
- ③ ^{おうしゅうかいどう}奥州街道のルートは^{へんこう}変更されたことがない
- ④ ^{えど}江戸時代、^{あぶくまがわぞ}阿武隈川沿いに^{じょうかまち}城下町が形成されていた

【第22問】

白河にある歴史的^{けんぞうぶつ}建造物のうち^{くら}蔵の特徴として、正しいものはどれですか。

- ① 火災の際に^{さい}那須連^{なすれんぼう}峰からの^{えんしょう}西風による^{えんしょう}延焼を防ぐため、^{しきち}敷地の東側に建てられている
- ② ^{たいかせいのう}耐火性能が低かった
- ③ ^{だんねつせい}断熱性や^{つうきせい}通気性に^{すぐ}優れていた
- ④ ^{ほねぐみ}骨組に木造は使われなかった

【第23問】

たいしょう けんちく ふうち けんぞうぶつ
大正時代に建築された歴史的風致形成建造物はどれですか。

- ① 藤屋建造物群 ② 上の片野屋建造物群
ふじやけんぞうぶつぐん うえ かたのやけんぞうぶつぐん
③ 櫻井呉服店建造物群 ④ 仁平麴店建造物群
さくらいごふくてんけんぞうぶつぐん にへいこうじてんけんぞうぶつぐん

【第24問】

ふうち けんぞうぶつ きゅうわきほんじんやなぎや
白河市の歴史的風致形成建造物に指定されている旧脇本陣柳屋

りょかんけんぞうぶつぐん
旅館建造物群がある町内はどこですか。

- ① 本町 ② 中町 ③ 天神町 ④ 金屋町
もとまち なかまち てんじんまち かなやまち

【第25問】

がいろ がた
歴史的な街路である「カギ型」について、正しいものはどれですか。

- ① 天神町にある大カギ型は「十軒店」と呼ばれている
てんじんまち じっけんだな
② 「カギ型」は敵の侵攻を遅らせるために作られた
てき しんこう
③ 旧奥州街道に「カギ型」はない
きゅうおうしゅうかいどう
④ 「カギ型」は自然災害によってできたものである
さいがい

【第26問】

にわながしげ はか
丹羽長重の墓が置かれた場所はどこですか。

- ① 白河関跡 ② 南湖 ③ 稲荷山 ④ 円明寺(小南湖)

【第27問】

あかがわら とくちょうてき しらかわえき えきしゃ
赤瓦の屋根やステンドグラスが特徴的な白河駅の駅舎はいつ建てられましたか。

- ① 江戸時代 ② 明治時代 ③ 大正時代 ④ 昭和時代

【第28問】

ぼしんせんそう まちが
戊辰戦争と白河地方について、間違っているものはどれですか。

- ① 白河の人々は西軍・東軍の犠牲者を分けへだてなく、丁重に吊つた
- ② 犠牲者は西軍より東軍の方が多かった
- ③ 農民や町民にも犠牲者がでた
- ④ 西軍は棚倉城を攻略できなかった

【第29問】

しらかわぐち げきせんち あいづはん はんし
白河口の戦い最大の激戦地となり、会津藩304人の戦死藩士の名前
きざ ひ
が刻まれた碑があるのはどこですか。

- ① いなりやま 稲荷山 ② こまるやま 小丸山 ③ せきさん 関山 ④ ちんごじんやま 鎮護神山

【第30問】

ばくまつ めいじ かつやく いちかわほうせい
幕末から明治期にかけて活躍した市川方静について、正しいものは
どれですか。

- ① しじゅく ほうせいあん もんかせい
私塾「方静庵」を開き、門下生は約3千5百人であった
- ② めいじ
明治20年（1887）の皆既日食の際に、アマースト大学の
かんそくだん そくりょう
観測団とともに測量にあたった
- ③ せいび かんそくじゅつ そくりょうき
道路整備のため観測術が必要と説いたが、測量器を完成させるこ
とはできなかった
- ④ こみねじょう だいかいしゅう じんりよく
小峰城の大改修に尽力した

【第31問】

なんここうえん
南湖公園について、正しいものはどれですか。

- ① 大正^{たいしょう}13年（1924）に国立公園に登録された
- ② 人の立ち入りを制限するため、周囲には堀^{ほり}や柵^{さく}が設け^{もう}られていた
- ③ 南湖^{なんこ}は水田に水を引き込む、ため池の役割を果たしていた
- ④ 裕福^{ゆうふく}な人々だけが南湖^{なんこ}に訪^{おとず}れた

【第32問】

なんこじゅうななけい
南湖十七景に含まれるものはどれですか。

- ① 鏡^{かがみ}の山^{やま}（明鏡山^{めいきょうざん}）
- ② 南湖神社^{なんこじんじゃ}
- ③ 翠楽苑^{すいらくえん}
- ④ 南湖開^{なんこかい}さく碑^ひ

【第33問】

なんこじんじゃ だれ そうけん
南湖神社は、誰をまつるために創建されましたか。

- ① 丹羽長重^{にわながしげ}
- ② 渋沢栄一^{しぶさわえいいち}
- ③ 松尾芭蕉^{まつおぼしょう}
- ④ 松平定信^{まつだいらさだのぶ}

【第34問】

なんこはんしんどうかいつうしき か かいさい きょうぎ
南湖湖畔新道開通式を兼ねて開催された競技はどれですか。

- ① 競艇 ^{きょうてい} ② 自転車競技 ^{きょうぎ} ③ 寒中水泳 ^{かんちゅう} ④ 競馬 ^{けいば}

【第35問】

しらかわのせき まちが
白河関について、間違っているものはどれですか。

- ① 松平定信 ^{まつだいらさだのぶ} は現在の旗宿 ^{はたじゆく} に白河関 ^{しらかわのせき} があつたと断定 ^{だんてい} した
- ② 古関蹟碑 ^{こかんせきひ} が建てられている
- ③ 古代には人や物資 ^{かんし} を監視 ^{けんもん} する検問の役割を果たしていた
- ④ 源義経 ^{みなものよしつね} は白河関 ^{しらかわのせき} を通つたが関山 ^{せきさん} ・満願寺 ^{まんがんじ} には参詣 ^{さんけい} しなかつたと伝えられている

【第36問】

おうしゅうかいどう
奥州街道とその周辺地区について、正しいものはどれですか。

- ① 奥州街道 ^{おうしゅうかいどう} は、会津街道 ^{あいづかいどう} と分岐 ^{ぶんき} しない
- ② 奥州街道 ^{おうしゅうかいどう} は、江戸時代 ^{えど} に整備 ^{せいび} された五街道 ^{ごかいどう} の一つである
- ③ 陸奥国 ^{むつくに} に入り、最初の宿場 ^{しゆくば} は小田川宿 ^{こたがわしゆく} である
- ④ 白坂宿 ^{しらさかしゆく} の手前には「大清水 ^{おおしみず}」と呼ばれる清水 ^{しみず} がある

【第37問】

あいづかいどう
会津街道とその周辺地区について、正しいものはどれですか。

- ① 上小屋地区は、かつて本陣や旅籠などが置かれ、重要な宿場として栄えた
- ② 会津街道は、会津から東北街道と呼ばれていた
- ③ 徳川家光が奥羽仕置の際、伊達政宗に整備を命じた
- ④ 町屋遺跡は、大信を代表する弥生時代の遺跡である

【第38問】

なかやまぎしゅう
中山義秀について、正しいものはどれですか。

- ① 昭和39年(1964)に「碑」で芥川賞を受賞した
- ② 「自由な文士」と称された
- ③ 「芭蕉庵桃青」が未完のまま、昭和44年(1969)に亡くなった
- ④ 大学を卒業後、数学の教師を務めた

【第39問】

^{たなぐらかいどう}
棚倉街道とその周辺地区について、正しいものはどれですか。

- ① ^{たなぐら} 棚倉と ^{こおりやま} 郡山を結ぶ街道である
- ② ^{げんのうおしょう} 源翁和尚が ^{たてほこやま} 建錡山に ^{ほこ} 錡を建て、神をまつたとされている
- ③ ^{ぼしんせんそう} 戊辰戦争では、^{せいぐん} 西軍により ^{たなぐらかいどうすじ} 棚倉街道筋の家々が ^{しゅくえい} 宿営にされた
- ④ ^{おもてごう} 表郷地区にある ^{えど} ビャッコイは江戸時代に持ち込まれた

【第40問】

^{おもてごうかねやま}
表郷金山地区の ^{こがねがわけんりゅうちたい} 黄金川源流地帯で ^{さいくつ} 採掘されていたものはどれですか。

- ① 金 ② 銀 ③ 銅 ④ ^{ひすい} 翡翠

【第41問】

いしかわかいどう みとかいどう
石川街道・水戸街道とその周辺地区について、正しいものはどれですか。

- ①水戸街道は、新潟と水戸を結んだ
- ②白川城は丘陵地を利用して築かれた山城で現在も天守閣が残されている
- ③旧東村に生まれた有賀帛五郎は、ドイツ流の肖像写真の手法を紹介した
- ④水戸街道沿いに、小滝の清水がある

【第42問】

しらかわちようちん
白河提灯まつりについて、正しいものはどれですか。

- ①毎年9月中旬の3日間開催される
- ②白河藩主本多忠義より鹿嶋神社に神輿の寄進があったことが始まりとされている
- ③鹿嶋神社の氏子組織は現在、14町内会で組織されている
- ④約100年にわたり受け継がれている

【第43問】

みやもと しらかわちょうちん さいれいしっこう
宮本として白河提灯まつりの祭礼執行の主体の一つとなってい
る町内はどこですか。

- ① 本町 ② 旭町 ③ 大工町 ④ 桜町

【第44問】

しらかわちょうちん みこし ちょうちんぎょうれつ
白河提灯まつりの町内神輿の提灯行列について、正しいものは
どれですか。

- ① 神輿が行列の先頭となる
- ② 先達竿頭提灯は長さ3メートルの竹竿の先に大きな提灯が
付いている
- ③ 元方提灯が行列の最後を締めくくる
- ④ 高張提灯は長さ10メートル前後の竹竿2本の先それぞれ
提灯が付いていて、2本揃って上げ下げする

【第45問】

しらかわ まゆげ
白河だるまの眉毛は何を表していますか。

- ① 鶴 ② 亀 ③ 梅 ④ 松

【第46問】

しらかわ いち
白河だるま市の会場となる町内はどこですか。

- ① たまち 田町 ② しんくらまち 新蔵町 ③ なかもち 中町 ④ しょうわまち 昭和町

【第47問】

しらかわ だれ
白河だるまのデザインを考えたといわれているのは誰ですか。

- ① まつおぼしょう 松尾芭蕉 ② たにぶんちよう 谷文晁 ③ ゆうきともみつ 結城朝光 ④ せっしゅう 雪舟

【第48問】

しゅぞうぎょう
白河の酒造業について、正しいものはどれですか。

- ① えど 江戸時代の酒造業者は、米が取れる農村部に集中していた
- ② おうしゅうかいどうぞ 奥州街道沿いに酒造業者はなかった
- ③ 雨が多く降る気候が、おいしい酒をつくる下地となっている
- ④ じょうかまち 城下町の やんたがわぞ 谷津田川沿いには、酒造米の しゅぞうまい 精米などの動力として水車が多くあった

【第49問】

かまこのうりょうぼんおど
釜子納涼盆踊りについて、正しいものはどれですか。

- ①子どもしか参加することができない
- ②戊辰戦争で戦死した霊を吊うために踊ったといわれている
- ③太鼓は使わず、「ヤーヤーヤー」との掛け声で音頭をとっている
- ④最後に「ちびっこ踊り」が行われる

【第50問】

はいでん なおらい
拝殿での直会に始まり、やがて神殿前のたき火を中心にして回りなが
ら太鼓を打ち鳴らし、祭壇にキュウリを供えることから、「キュウリ天王」
ともいわれている祭礼はどれですか。

- ①かとうだごずてんのうさい
河東田牛頭天王祭
- ②おおたけ てんどうねんぶつ
大竹の天道念仏
- ③せきべ おどり
関辺のさんじもさ踊
- ④とうかいち まつ
十日市ちょうちん祭り

